

# Desarrollar y pegar en el cuaderno

## Guía de Trabajo N°8 "Me ubico en el mapa de Chile"

25/03/2020



1. Observa el mapa n°1 y el mapa n°2.

2. Responde:

a) ¿En qué se parecen ambos mapas?

.....  
.....

b) ¿En qué se diferencian ambos mapas?

.....  
.....

3. Haz en ambos mapas:

a) Pinta tu región de color rojo.

b) Marca con un punto la capital de tu región.

c) Pinta de un color claro el resto del país.

d) Escribe el nombre del Océano Pacífico donde corresponde.

e) Pinta de color celeste el Océano Pacífico.

f) Dibuja ^ ^ donde se ubica la corallera de los Andes.

4. Completa el resumen:

El territorio americano de Chile se ubica entre la cordillera de

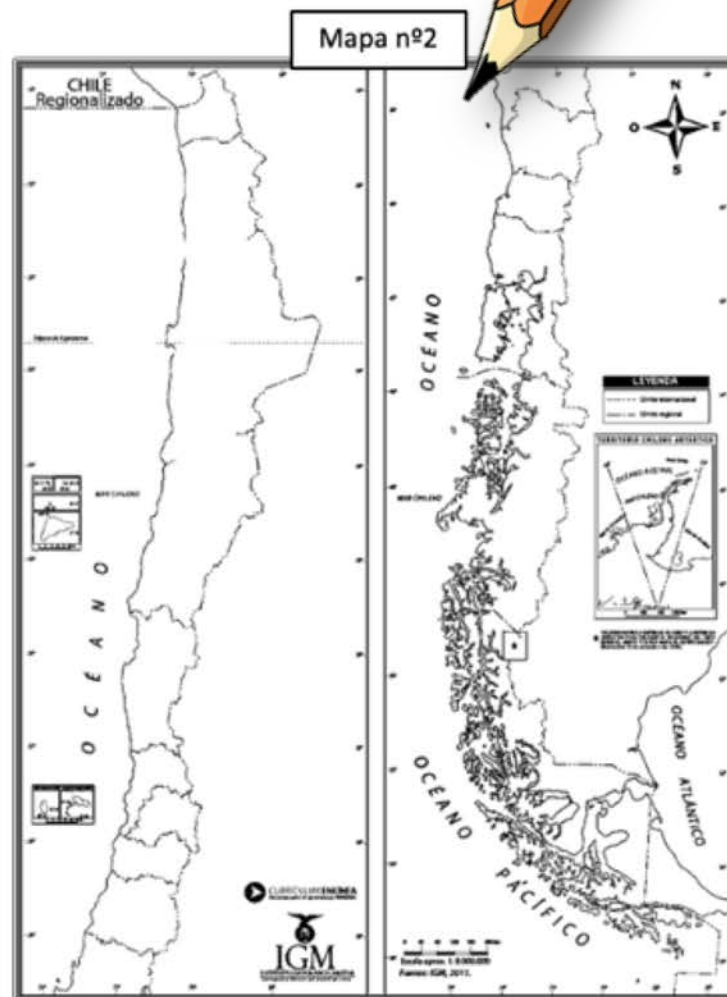
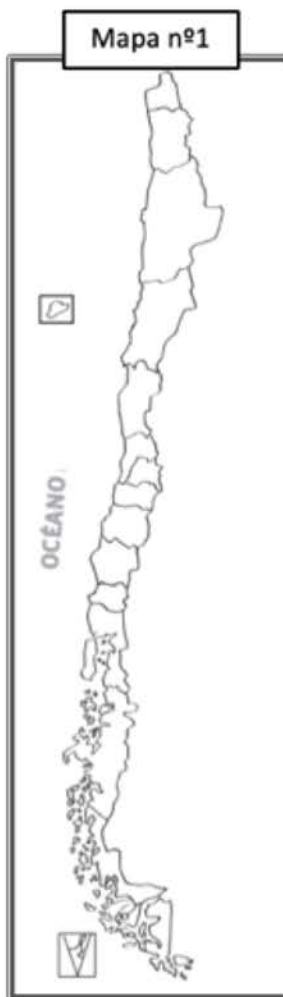
..... y el océano

.....

La capital de Chile es .....

..... y su capital es

.....



# Revisión Guía N°8



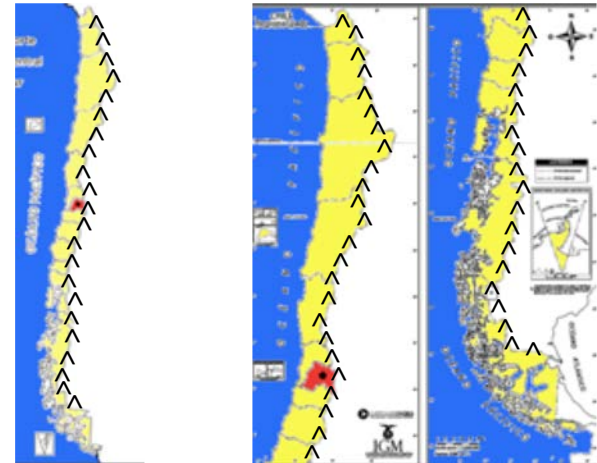
- ✓ Cuando hayas terminado de responder la guía, revisa esta sección con las soluciones.
- ✓ Si tuviste algún error, ¡ahora es el momento de corregirlo!

Soluciones:

2.a. Los dos mapas corresponden a nuestro país, Chile.

2.b. En el “mapa 1”, Chile alcanza a aparecer entero porque su dibujo es más pequeño, mientras que en el “mapa 2”, Chile aparece dividido en dos partes.

3.



4.

Los Andes  
Pacífico  
Santiago  
Metropolitana  
Santiago

¡Felicitaciones!

Haz completado todas las actividades de la Unidad 0.

