


UNIDAD N°1: LAS ZONAS NATURALES DE CHILE Y SUS LÍMITES



¿QUÉ ES UNA ZONA NATURAL?

- Zona delimitada por criterios de Geografía Física (relieve, clima, vegetación, entre otras cosas).
- La geografía física, estudia y explica a la tierra de acuerdo a su forma física y sus accidentes naturales (relieve, climas, mares, flora y fauna, etc.).



- **Cada región**, es parte de una zona natural.
 - Las **zonas naturales son 5 en total** y sus límites geográficos son los siguientes:
- 1) **Norte Grande:** Desde el límite con Perú hasta el río Copiapó (incluye la región de Arica y Parinacota, Tarapacá, Antofagasta y parte de la región de Atacama).



- **2) Norte Chico:** Desde el río Copiapó hasta el río Aconcagua (incluye la otra parte de la región de Atacama, la de Coquimbo y parte de la región de Valparaíso).



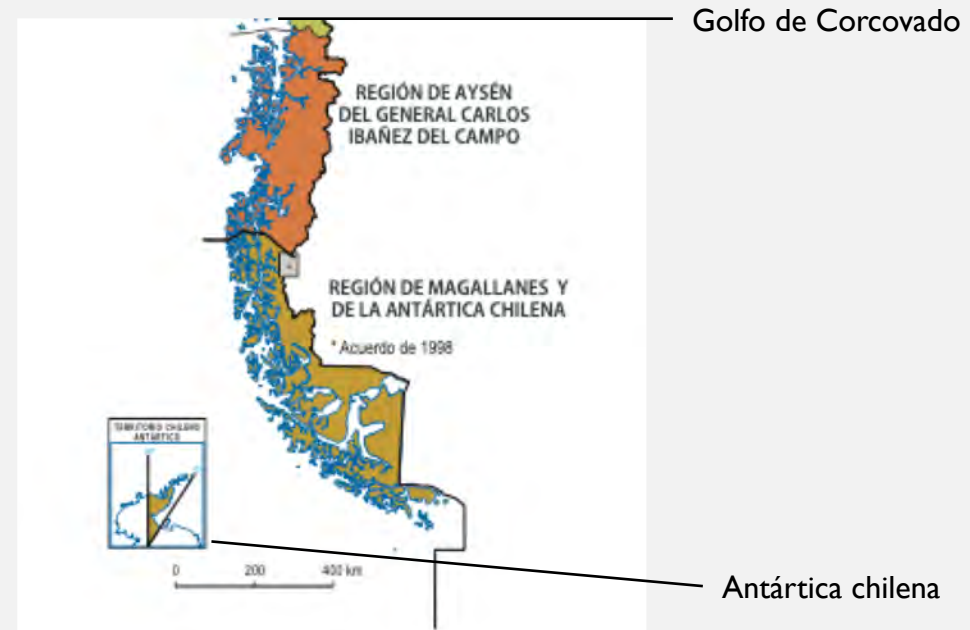
- **3) Zona central:** Desde el río Aconcagua hasta el río Bío-Bío (incluye la otra parte de la región de Valparaíso, la Metropolitana, Libertador Bernardo O`Higgins, Maule, Ñuble y parte de la región del Bío-Bío).



4) Zona Sur: Desde el río Bío-Bío hasta el Golfo del Corcovado, al sur de la isla de Chiloé (incluye la otra parte de la región del Bío-Bío, La Araucanía, Los Ríos y Los Lagos).



5) Zona Austral: Desde el Golfo de Corcovado hasta el territorio Antártico chileno (incluye la región de Aysén y Carlos Ibáñez del Campo o también llamada Magallanes).





Trabajo 5º básico, UNIDAD 1: Zonas Naturales de Chile

NOMBRE: _____ **CURSO:** ____ **FECHA:** _____

OBJETIVOS:

- Conocer las regiones de Chile y sus capitales.
- Distinguir los límites de las zonas naturales de Chile.

Habilidades:

- Explicar que para aprender sobre zonas naturales de Chile es primordial saber las regiones de Chile.
- Asociar las regiones de Chile a distintas temáticas de nuestra realidad actual.

MATERIALES: Atlas actualizado, lápiz mina, goma y lápices de colores.

INSTRUCCIONES:

-La presente actividad da inicio a la Unidad nº1: Zonas naturales de Chile y será evaluada con nota acumulativa. Por otro lado, ésta tendrá que ser entregada el día que retornemos a clases y es muy importante dejar en claro que no se recibirán trabajos incompletos.

-El alumno/a, con la ayuda de un atlas tendrá que ubicar en el mapa mudo adjuntado en la siguiente página, cada región de Chile con su respectiva capital (16 punto en total).

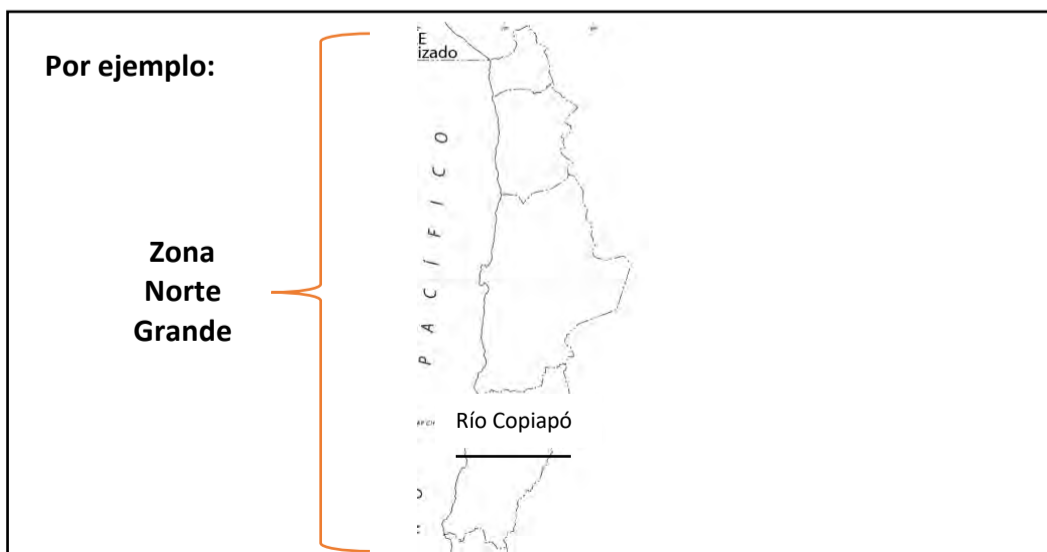
-Sugiero, que, para poder identificar de mejor manera la región y su respectiva capital, realicen la siguiente simbología (16 puntos en total):

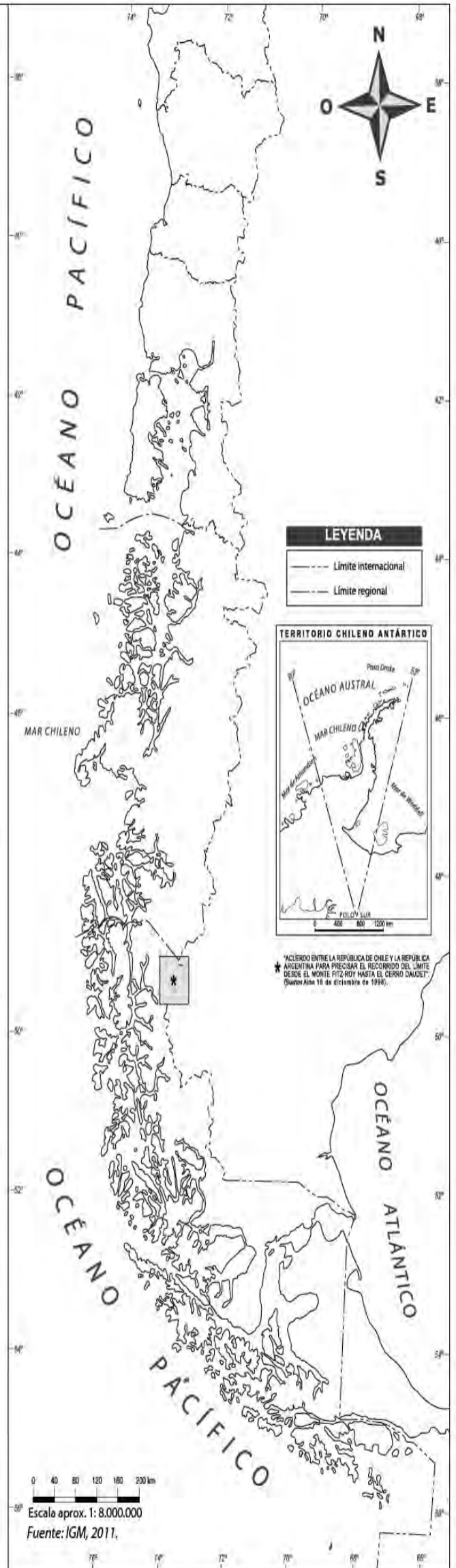
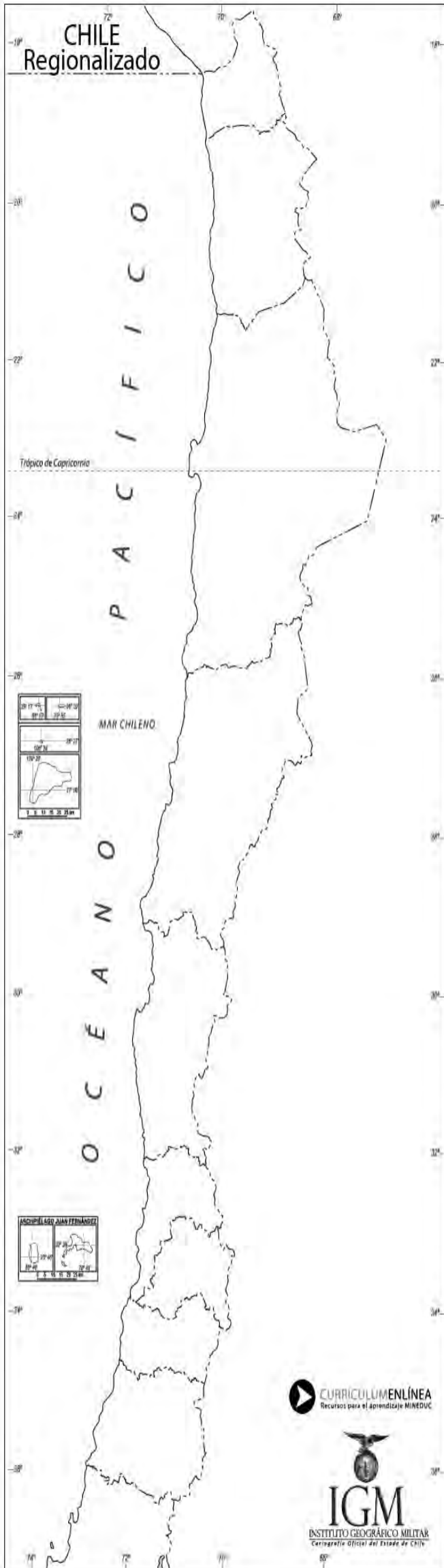
- Nombre de la región ● Capital de la región



-Luego ubique también, lo siguiente: Límite con Perú, Río Copiapó, Río Aconcagua, Río Bío-Bío, Golfo de Corcovado y Antártica chilena (6 puntos en total).

-Finalmente, según los límites de las zonas naturales de Chile enviados en el Power Point, tracelíneas para poder distinguir las 5 zonas naturales de Chile (5 puntos en total):





CURRÍCULO MENCIÓN
Recursos para el aprendizaje MINEDUC

IGM
INSTITUTO GEOGRÁFICO MILITAR
Cartografía Oficial del Estado de Chile